

Aufgabe 1: (4 Punkte)

Man berechne die folgenden Grenzwerte

a) $\lim_{n \rightarrow \infty} \left(\frac{n^3}{n^2 + 4} - \frac{2n^2}{2n + 1} \right),$

b) $\lim_{x \rightarrow 0} \frac{x - \sin(x)}{x^3}.$

Lösung:

a) (2 Punkte)

$$\lim_{n \rightarrow \infty} \left(\frac{n^3}{n^2 + 4} - \frac{2n^2}{2n + 1} \right) = \lim_{n \rightarrow \infty} \frac{n^3(2n + 1) - 2n^2(n^2 + 4)}{(n^2 + 4)(2n + 1)} = \lim_{n \rightarrow \infty} \frac{n^3 - 8n^2}{2n^3 + n^2 + 8n + 4} = \frac{1}{2}.$$

b) (2 Punkte)

Aus der Regel von de l'Hospital für den Fall " $\frac{0}{0}$ " erhält man

$$\lim_{x \rightarrow 0} \frac{x - \sin(x)}{x^3} \stackrel{\frac{0}{0}}{=} \lim_{x \rightarrow 0} \frac{1 - \cos(x)}{3x^2} \stackrel{\frac{0}{0}}{=} \lim_{x \rightarrow 0} \frac{\sin(x)}{6x} \stackrel{\frac{0}{0}}{=} \lim_{x \rightarrow 0} \frac{\cos(x)}{6} = \frac{1}{6}.$$

Aufgabe 2: (5 Punkte)

- a) (i) Man bestimme eine in $x = 0$ stetige Funktion $f : \mathbb{R} \rightarrow \mathbb{R}$ mit den Eigenschaften $f(1) = 0$ und $f'(x) = \begin{cases} \cos(x), & x < 0 \\ -1, & 0 < x. \end{cases}$
- (ii) Ist f in $x = 0$ dann auch differenzierbar (Begründung)?
- b) Man berechne die erste Ableitung der folgenden Funktionen

$$(i) g(x) = \frac{1 - 3x}{x^2 + x}, \quad (ii) h(x) = \ln \left(\sin(x) - \frac{3}{x} \right).$$

Lösung:

- a) (3 Punkte)

- (i) Man erhält $f(x) = \begin{cases} \sin(x) + a, & x < 0 \\ -x + b, & 0 < x \end{cases}$ und $0 = f(1) = -1 + b$ ergibt $b = 1$.

Stetigkeit in $x = 0$: $a = \lim_{x \rightarrow 0^-} (\sin(x) + a) \stackrel{!}{=} \lim_{x \rightarrow 0^+} (-x + 1) = 1 \Rightarrow a = 1$

- (ii) f ist in $x = 0$ nicht differenzierbar, denn

$$1 = \lim_{x \rightarrow 0^-} \cos(x) = \lim_{x \rightarrow 0^-} f'(x) \neq \lim_{x \rightarrow 0^+} f'(x) = -1.$$

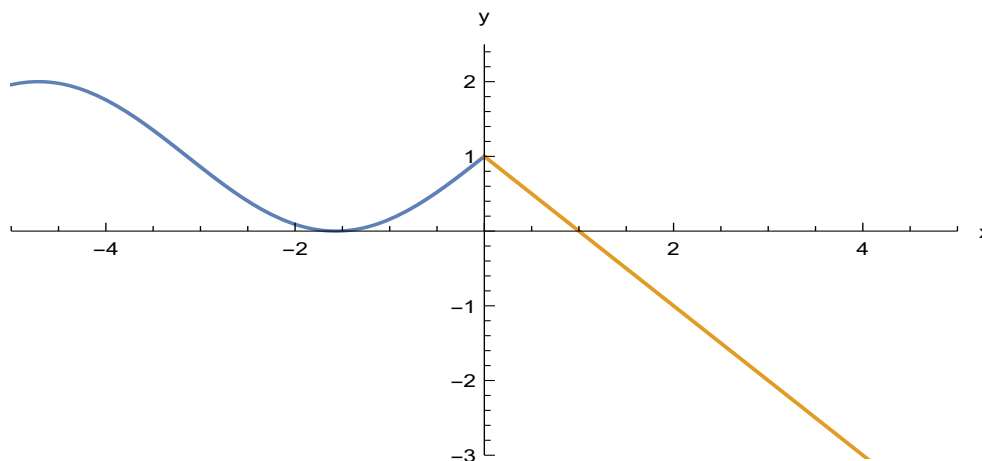


Bild 2 a): $f(x)$ mit $a = 1 = b$ (keine Wertung)

- b) (2 Punkte)

(i) $g'(x) = \left(\frac{1 - 3x}{x^2 + x} \right)' = \frac{-3(x^2 + x) - (1 - 3x)(2x + 1)}{(x^2 + x)^2} = \frac{3x^2 - 2x - 1}{(x^2 + x)^2}$

(ii) $h'(x) = \left(\ln \left(\sin(x) - \frac{3}{x} \right) \right)' = \frac{\cos(x) + \frac{3}{x^2}}{\sin(x) - \frac{3}{x}}$

Aufgabe 3: (4 Punkte)

Gegeben sei die durch $f(x) = \sqrt{x+1}$ definierte Funktion.

Man berechne das Taylor-Polynom $T_2(x; x_0)$ von f zum Entwicklungspunkt $x_0 = 0$ und schätze den Fehler zwischen $f(1)$ und $T_2(1; x_0)$ mit Hilfe der Restgliedformel von Lagrange nach oben ab.

Lösung:

$$f(x) = \sqrt{x+1} \quad \Rightarrow \quad f(0) = 1$$

$$f'(x) = \frac{1}{2(x+1)^{1/2}} \quad \Rightarrow \quad f'(0) = \frac{1}{2}$$

$$f''(x) = -\frac{1}{4(x+1)^{3/2}} \quad \Rightarrow \quad f''(0) = -\frac{1}{4}$$

$$\Rightarrow T_2(x; 0) = \frac{f''(0)}{2!}(x-0)^2 + \frac{f'(0)}{1!}(x-0) + f(0) = -\frac{x^2}{8} + \frac{x}{2} + 1$$

$$f'''(x) = \frac{3}{8(x+1)^{5/2}} \quad \text{mit } 0 < \xi < 1 \text{ gilt}$$

$$|f(1) - T_2(1; 0)| = |R_2(1; 0)| = \left| \frac{f'''(\xi)}{3!} (1-0)^3 \right| = \left| \frac{1}{16(\xi+1)^{5/2}} \right| \leq \frac{1}{16}$$

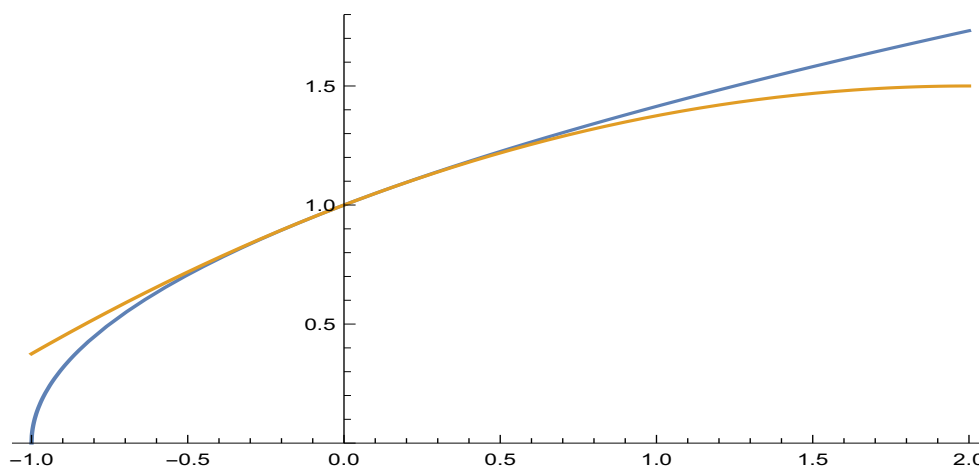


Bild 3: $f(x) = \sqrt{x+1}$ und $T_2(x; 0)$ (keine Wertung)

Aufgabe 4: (3 Punkte)

Man bestimme für die durch

$$f(x) = e^x(x - 4)$$

gegebene Funktion $f : \mathbb{R} \rightarrow \mathbb{R}$ alle Wendepunkte und die Bereiche, in denen f konvex bzw. konkav ist.

Lösung:

$$f(x) = e^x(x - 4), \quad f'(x) = e^x(x - 3), \quad f''(x) = e^x(x - 2)$$

$$f''(x) = e^x(x - 2) \begin{cases} < 0, & x < 2 & \text{streng konkav} \\ = 0, & x_1 = 2 & \text{Wendepunkt} \\ > 0, & 2 < x & \text{streng konvex} \end{cases}$$

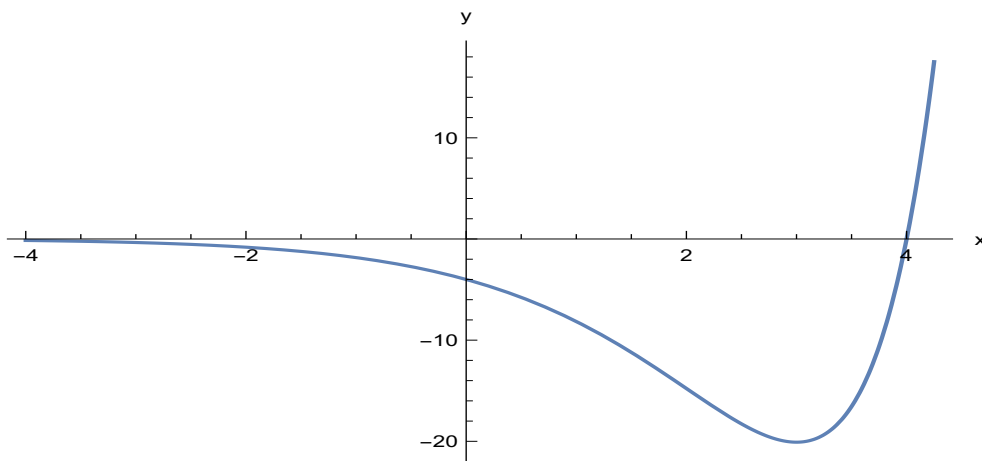


Bild 4: $f(x) = e^x(x - 4)$ (keine Wertung)

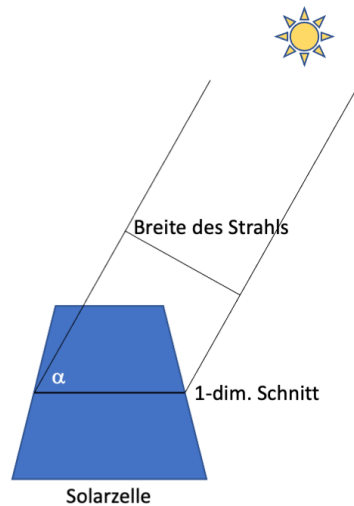
Aufgabe 5: (4 Punkte)

In dieser Aufgabe soll die Leistung einer Solarzelle unter vereinfachten Annahmen beschrieben werden.

Wir nehmen folgendes Modell einer Solaranlage an:

Die Zelle sei 1 Längeneinheit (z.B. [m]) breit und sie generiere maximal eine Leistungseinheit (z.B. [KW]) bei optimaler Sonneneinstrahlung. Die Leistung sei direkt proportional zur Breite des einfallenden Sonnenstrahlbündels und wir stellen die Zelle durch einen ein-dimensionalen Schnitt dar (siehe Skizze).

Vereinfachend nehmen wir weiter an, dass die Sonne von 6:00 Uhr morgens bis 18:00 Uhr abends scheint und in einem Kreisbogen um die Zelle rotiert. Wenn die Zelle optimal ausgerichtet ist, dann steht die Sonne um 12:00 Uhr senkrecht zur Zelle und dementsprechend erzeugt die Zelle dann 100% ihrer Leistung.



Es ergibt sich für den Winkel $\alpha = \alpha(t)$ in Abhängigkeit von der Tageszeit:

$$\alpha(t) = \frac{t - 6}{12} \pi. \quad (1)$$

Für die Breite $B = B(\alpha)$ des einfallenden Sonnenstrahlbündels berechnet man unter Berücksichtigung der Breite der Solarzelle von 1:

$$B(\alpha) = \sin(\alpha). \quad (2)$$

Wenn wir nun also annehmen, dass die maximale Leistung 1 Leistungseinheit beträgt und direkt proportional zur Breite des Strahlenbündels ist, dann können wir die Leistung $L = L(t)$ der Solarzelle in Abhängigkeit der Tageszeit darstellen als

$$L(t) = \sin\left(\frac{t - 6}{12} \pi\right). \quad (3)$$

Aufgaben: Beschreiben Sie zunächst jeweils, was zu tun ist, und rechnen Sie danach.

- Wie muss die Gleichung (3) verändert werden, wenn die Zelle nicht optimal ausgerichtet ist, sondern um 3° zur aufgehenden Sonne geneigt ist? Schreiben Sie die modifizierte Gleichung auf.
- Um welche Uhrzeit erreicht die geneigte Zelle ihre maximale Leistung?

Lösung:

a) (2 Punkte)

Wir müssen zunächst den Winkel in Bogenmaß ausdrücken und dann zum Winkel α addieren:

$$\beta = \frac{3^\circ}{180^\circ} \pi = \frac{1}{60} \pi.$$

Damit ergibt sich für die modifizierte Leistungskurve $\tilde{L}(t)$:

$$\tilde{L}(t) = \sin \left(\alpha(t) + \frac{1}{60} \pi \right) = \sin \left(\frac{5(t-6) + 1}{60} \pi \right) = \sin \left(\frac{\pi}{12} t - \frac{29\pi}{60} \right)$$

b) (2 Punkte)

Für die Berechnung der maximalen Leistung muss das Maximum von $\tilde{L}(t)$ bestimmt werden. Das gelingt, indem man die Ableitung bildet.

Die Ableitung ergibt sich zu

$$\tilde{L}'(t) = \frac{\pi}{12} \cos \left(\frac{\pi}{12} t - \frac{29\pi}{60} \right) = \frac{\pi}{12} \sin \left(\frac{\pi}{12} t + \frac{\pi}{60} \right)$$

Entsprechend berechnet man leicht, dass für $\frac{\pi}{60}(5t+1) = \{0, \pi\}$ die Ableitung verschwindet. Die rechte Seite Null wird für $t = -\frac{1}{5}$ angenommen, zu diesem Zeitpunkt scheint die Sonne aber gar nicht. Also gilt $t = \frac{59}{5}$ oder 11:48 Uhr.